

4. SINIF TEMEL DERSLER ÇALIŞMA KAĞIDI

TÜRKÇE

CEYLİN PİKNIKTE

Ceylin, sabah erkenden kalkıp eşofmanlarını giyip çantasını hazırladı. Sabırsızlıkla beklediği gün gelmişti. Artık havalar ısınmış her yer yemyeşil olmuştu. Annesi, babası ve kardeşiyle pikniğe gideceklerdi. Eşyalarını arabaya yerleştirdikten sonra yola koyuldular.

Piknik yapacakları alana vardıklarında hızlıca arabadan çıktı ve ağaçların arasında koşmaya başladı. O an Ceylin'den mutlusu olamazdı. Hava kararınca kadar ağaçların arasında oyun oynamak, koşmak, eğlenmek uzun zamandır en büyük hayali olmuştu. Kardeşiyle birlikte bir süre oynadılar. Artık ijiye acıkmışlardı. Annesi ve babası sofrayı hazırlamış onlara sesleniyorlardı. Koşarak sofraya oturup yemeklerini yediler.

Ceylin yemeğini yedikten sonra, içinde meyve suyu olan plastik bardağını eline alıp kocaman bir ağacın dibine oturdu. O sırada kardeşinin salıncağa bindiğini gördü. Meyve suyunu bir dikişte bitirip bardağını ağacın dibine fırlattı. Tam kardeşine doğru koşmaya başlamıştı ki hiç tanımadığı bir ses duydu:

- Hey!

Aşağıdaki soruları metne göre cevaplayınız.

1. Aşağıdaki sözcükleri metnin içinden bulup kırmızı kalemle yuvarlak içine alın. Sözlükten anlamlarını bulup tümce içinde kullanınız.

Eğlenmek:

Cümle:

Hayal:

Cümle:

2. Metinde Ceylin'in duyduğu ses ne/kim olabilir?

.....

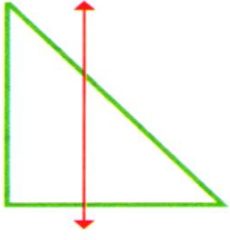
3. O sesin sahibi Ceylin'e ne söylemiş olabilir?

.....

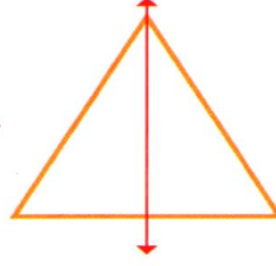


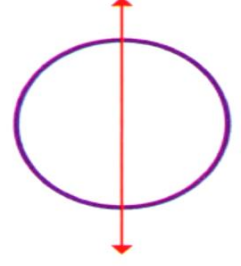
SİMETRİ

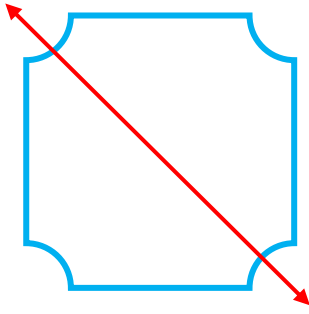
Aşağıdaki şekillerin simetri doğrularının hangileri yanlış çizilmiştir? İşaretleyiniz.







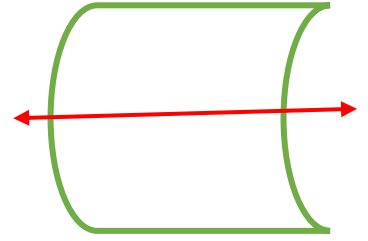












UZUNLUK ÖLÇÜLERİ

Soru 1: 150 km yolun önce 50 km'si sonra 35 km'si asfalt yapılıyor. Asfalt yapılacak ne kadar yol kalmıştır?



Soru 3: Sınıfımızın boyu 7 m 35 cm'dir. Eni ise 4 m 65 cm'dir. Sınıfımızın boyu eninden ne kadar uzundur?



Soru 2: 12 m kumaşın 5 m 45 cm'si kullanıldı. Geriye ne kadar kumaş kalmıştır?



Soru 4: Aşağıda verilen çevirmeleri yapınız.

$$20 \text{ m} = \dots\dots\dots \text{ cm}$$

$$4 \text{ km} = \dots\dots\dots \text{ m}$$

$$34 \text{ m} = \dots\dots\dots \text{ cm}$$

$$34 \text{ km} = \dots\dots\dots \text{ m}$$

$$200 \text{ cm} = \dots\dots\dots \text{ m}$$

$$8 \text{ km } 7 \text{ m} = \dots\dots\dots \text{ m}$$

$$1 \text{ m} = \dots\dots\dots \text{ cm}$$

$$1000 \text{ m} = \dots\dots\dots \text{ km}$$

SES KİRLİLİĞİ

Aşağıdaki cümleleri okuyunuz, doğru olan cümlelerinin başına "X" işareti koyunuz.

	İnsanı rahatsız eden, işitme organını olumsuz yönde etkileyen seslere gürültü denir.
	Şiddetli patlamalar işitme duyusuna zarar vermez.
	Ses şiddetinin birimi desibeldir. Desibel Db simgesi ile gösterilir.
	Gürültünün insan sağlığı üzerindeki olumsuz etkileri; baş dönmesi, baş ağrısı, dikkatsizlik, verim düşüklüğü, yüksek sesle konuşma, sinirlilik, işitme bozuklukları ve işitme yitimidir.
	Kulağımıza sivri ve kesici aletler sokmalıyız.

SES KİRLİLİĞİ

Aşağıda boş bırakılan yerlere verilen ifadelere uygun cevaplar yazınız.

Gürültüyü Azaltmaya Yönelik Önlemler

- 1.....
- 2.....
- 3.....

Kulak Sağlığım İçin Dikkat Etmem Gerekenler

- 1.....
- 2.....
- 3.....

"Ses Yalıtımı" Deyince Aklıma Gelenler

- 1.....
- 2.....
- 3.....

ÇOCUK HAKLARI

Dünya üzerindeki bütün çocukların doğuştan sahip olduğu haklara "çocuk hakları" denir. Birleşmiş Milletler Genel Kurulu tarafından 20 Kasım 1989 tarihinde kabul edilen Çocuk Haklarına Dair Sözleşme, Türkiye tarafından 14 Eylül 1990 tarihinde kabul edildi.

Aşağıda verilenleri dikkatlice okuyunuz. Verilen bilgilerin hangileri çocuk haklarına uygundur?

Her çocuğun yaşama hakkı vardır.
Her çocuğun zihinsel, bedensel, duygusal gelişim hakkı yoktur.
Her çocuğun yeterli beslenme, barınma, dinlenme ve tıbbi bakım hakkı yoktur.
Çocuklar her türlü sömürü, kötü muamele, şiddet ve ihmale karşı korunmalıdır.
Çocukların kendisi ile ilgili işlemlerde görüş bildirme hakkı ailelere verilmiştir.
Her çocuğun din ve vicdan özgürlüğüne saygı gösterilmelidir.
Her çocuğun isim, vatandaşlık, anne babasını bilme ve onlardan bakım alma hakkı vardır.
Her çocuğun oyun hakkı ve yeteneklerini geliştirme hakkı ailelerine bırakılmıştır.

ÇOCUK HAKLARI

Aşağıda verilenlerden çocuklara ait hakların bulunduğu kutucuğu boyayınız.

OYUN HAKKI

SEÇME HAKKI

YAŞAMA HAKKI

EĞİTİM HAKKI

BARINMA HAKKI

SEÇİLME HAKKI

Çocuk olarak başka hangi haklara sahip olmak isterdiniz?

.....

.....

.....

.....